

مهارات مادة العلوم الفصل الدراسي الثاني لعام ١٤٤٥ هـ

تسمية بعض أشكال اليابسة
تعداد بعض مصادر الماء على الأرض
تقديم كتابة حول ترشيد استهلاك الماء
تعداد بعض الأنواع المختلفة من التربة .
ذكر سبب حدوث الليل والنهار
عمل نموذج بسيط يوضح حركة الشمس في السماء
المقارنة بين خصائص الفصول الأربعة من خلال قراءة الصور
ذكر سبب حدوث الفصول الأربعة .
ترتيب أطوار القمر من خلال مجموعة من الصور
تعداد مكونات النظام الشمسي

الوحدة الثالثة

أكتب المصطلح بجوار التعريف المناسب :

الجبل – الوادي – التلال – السهل

- ١) منطقة منبسطة وواسعة
- ٢) منطقة مرتفعة جدا من اليابسة
- ٣) مناطق مرتفعة ولكن أقل ارتفاع من الجبال
- ٤) أرض منخفضة من الجبال والتلال

أكمل العبارات الآتية بكلمات مناسبة :


العذب – الأمطار – المحيط – الماء - الأنهار

- ١/ لا تستطيع المخلوقات الحية العيش بدون
- ٢/ الماء هو الماء غير المالح ويوجد في البحيرات و
- ٣/ تجمع كبير وعميق من الماء المالح
- ٤/ من مصادر الماء العذب ماء.....

أضع علامة صح أو خطأ أمام العبارات التالية:

- ١/ تغطي المحيطات ثلاث أربع الكرة الأرضية ()
- ٢/ تستطيع الحيوانات الشرب من ماء مالح. ()
- ٣/ يمكن للأسماك أن تعيش بدون ماء. ()
- ٤/ من مصادر الماء العذب مياه الآبار ()

أصل كل نوع من أنواع التربة بصورته:



التربة الزراعية



التربة الطينية



التربة الرملية

الوحدة الرابعة

أملئ الفراغات التالية بالكلمات المناسبة :

المحور - مدار - دوران الأرض

- ١/ يتعاقب الليل والنهار بسبب حول محورها كل ٢٤ ساعة
- ٢/ تدور الأرض حول خط وهمي يسمى
- ٣/ المسار الذي تتبعه الأرض في الدوران حول الشمس يسمى

ضعي دائرة حول الإجابة الصحيحة :

أ / ينتج عن دوران الأرض حول نفسها :

١/ الفصول الأربعة

٢/ الليل والنهار

ب / تدور الأرض حول محورها كل :

١/ ٢٤ ساعة

٢/ سنة

٣/ شهر

أضع كل كلمة مما يلي في مكانها المناسب

الصيف - الشتاء - الربيع - الخريف

- ١- يحدث البسات الشتوي في فصل.....
- ٢- أكثر فصول السنة حرارة فصل.....
- ٣- تتفتح الأزهار وتخضر الأشجار في فصل.....
- ٤- تساقط أوراق الأشجار في فصل.....
- ٥- يطول النهار ويقصر الليل في فصل.....
- ٦- يطول الليل ويقصر النهار في فصل.....

أرسم دائرة حول الإجابة الصحيحة :

١- سبب حدوث الفصول الأربعة :

- دوران الأرض حول محورها

- ميلان محور الأرض أثناء دورانها حول الشمس

- دوران الأرض حول القمر

٢- ينتج عن دوران الأرض حول الشمس وميلان محورها :

- تعاقب الليل والنهار

- حدوث الفصول الأربعة




- جميع ما سبق

٣- كل فصل من الفصول الأربعة :

- ٣ أشهر

- ٤ أشهر

أرتب أطوار القمر بالتسلسل حسب بداية ظهورها :



أضع علامة صح أمام العبارة الصحيحة وعلامة خطأ أمام العبارة الخاطئة :

- ١- الشمس هي مصدر الضوء والحرارة على سطح الأرض ()
- ٢- الشمس والكواكب الثمانية وأقمارها مكونات النظام الشمسي ()
- ٣- تعتبر الشمس أقرب النجوم إلى سطح الأرض ()
- ٤- نستطيع العيش على كوكب آخر غير الأرض. ()
- ٥- عدد الكواكب التي تدور حول الشمس في النظام الشمسي ثمانية كواكب ()
- ٦- الشمس مهمة لجميع الكائنات الحية على سطح الأرض ()

• من مكونات النظام الشمسي :

١-

٢-